

0 280714 380005
28-07-14-38
(105.21)



Выход: 13:20
Пункт: 13:23

**МОСКОВСКИЙ ГОСУДАРСТВЕННЫЙ УНИВЕРСИТЕТ
имени М.В.ЛОМОНОСОВА**

Вариант 1

Место проведения Москва
город

ПИСЬМЕННАЯ РАБОТА


Олимпиада школьников Ломоносов
наименование олимпиады

по истории
профиль олимпиады

Шевченко Екатерины Викторовны
фамилия, имя, отчество участника (в родительном падеже)

Дата
«22» марта 2026 года

Подпись участника
Шевченко



Выполнять задания на титульном листе запрещается!

Заключительный этап 2025/26 учебного года по

истории

11 класс

1-й вариант

Часть А

Задание №1. Перед Вами девять отрывков, повествующих о правлении трех древнерусских князей. Назовите князей, о которых идет речь, и определите, с правлением кого из них связан каждый из отрывков.

А) «Пришел Брячислав, сын Изяслава, внук Владимира, на Новгород, и взял Новгород, и, захватив новгородцев и имущество их, пошел к Полоцку снова. И когда пришел он к реке Судомири, и [...] из Киева на седьмой день нагнал его тут. И победил [...] Брячислава»

Б) «[...] же стал размышлять, говоря: «Если сяду на столе отца своего, то ожидает меня война со Святополком, так как стол этот был его отца». И, размыслив, послал по Святополку в Туров, а сам пошел в Чернигов, а Ростислав — в Переяславль. <...> Пришел Святополк в Киев»

В) «Пошел [...] на хазар. Услышав же, хазары вышли навстречу во главе со своим князем каганом и сошлись биться, и в войне с ними одолел [...] хазар и город их Белую Вежу взял. И победил ясов и касогов, и пришел в Киев»

Г) «[...] сел в Киеве в воскресенье. Встретили же его митрополит Никифор с епископами и со всеми киевлянами с честью великой. Сел он на столе отца своего и дедов своих, и все люди рады были, и мятеж улегся»

Д) «[...] посадил Ярополка в Киеве, а Олега у древлян. В то время пришли новгородцы, прося себе князя: «Если не пойдете к нам, то сами добудем себе князя». <...> И взяли к себе новгородцы Владимира, и пошел Владимир с Добрынею, своим дядей, в Новгород, а [...] в Переяславец»

Е) «Боголюбивый князь [...] любил село Берестовое и церковь, которая была там, святых апостолов и помогал попам многим, среди которых был пресвитер, именем Иларион, муж благостный. Поставил [...] Илариона митрополитом, русского родом, в святой Софии, собрав епископов»

Ж) «Послал [...] сына своего Владимира на греков и дал ему много воинов, а воеводство поручил Вышате, отцу Яня. И отправился Владимир в ладьях, и приплыл к Дунаю, и направился к Царьграду. И была буря велика, и разбила корабли русских, и княжеский корабль разбил ветер»

З) «В тот же год пришел Олег с половцами из Тмуторокани и подошел к Чернигову. [...] же затворился в городе. Олег же, подступив к городу, пожег вокруг города и монастыри пожег. [...] же сотворил мир с Олегом и пошел из города на стол отцовский в Переяславль, а Олег вошел в город отца своего»

И) «Я, [...], как клялся, так и подтверждаю настоящим договором свою клятву:

8
хочу вместе с подвластными мне русскими боярами и прочими иметь мир и прочную дружбу с Иоанном, великим цесарем греческим. <...> И никогда не буду посягать на вашу страну... и на Болгарскую землю»

| | | | |
|-----------------|---------------------|-------------------|-----------------|
| Князь | Ярослав Мудрый | Светослав Царевич | БЗ |
| Отрывки (буквы) | БЗ Е А Ж | БЗ А | БЗ А |

Задание №2. Внимательно рассмотрите изображения Полководцев Великой Победы, прочитайте приведенные ниже отрывки и заполните таблицу.




- 1) «20 февраля я прибыл в Восточную Пруссию в штаб 3-го Белорусского фронта и 21 февраля вступил в командование. Моя непосредственная работа в войсках этого фронта на протяжении почти всей Белорусской операции... позволила мне быстро освоиться на новом поприще, так как я отлично знал не только руководящий состав фронтового управления, но также армейское и корпусное командование большинства армий»
- 2) «6 сентября в Ельню вошли наши войска. Опасный плацдарм был ликвидирован. В связи с этим я коротко доложил И.В. Сталину итоги Ельнинской операции. <...> Всего за период боев в районе Ельни было разгромлено до пяти дивизий, противник потерял убитыми 45-47 тысяч человек... По показаниям пленных, в некоторых частях минометов и артиллерии не осталось совершенно»

- 3) «30 мая я был вызван в Москву. Вместе со мной прибыли ближайшие сотрудники... Перед войсками Карельского фронта Ставка поставила теперь задачу очистить от финляндских войск Южную Карелию. <...> Наступление войск южного крыла Карельского фронта началось в третью годовщину войны»
- 4) «Хотя предпринятый нами контрудар частями 7-го стрелкового корпуса не оправдал ожиданий, он помешал противнику продвинуться на ольховатском направлении. Это предопределило провал наступления орловской группировки немцев. <...> Не добившись успеха 6 июля в центре и на левом фланге нашей 13-й армии, противник с утра 7 июля перенес основные усилия на Поньри»
- 5) «Докладываю: войска фронта на яском направлении 21 августа [...] года продолжали наступление. Развивая успех прорыва, продвинулись на 10—14 км, расширили фронт прорыва до 65 км и в глубину до 26 км. К 15.00 21 августа обходным маневром и штурмом овладели крупным политическим, экономическим центром Румынии и крупным жел. дор. узлом — городом Яссы»

| Изображение (буква) | Полководец | Отрывок (цифра) | Год событий, упомянутых в отрывке |
|---------------------|---------------------------------|-----------------|-----------------------------------|
| А | Васильев Меркулов | 3 | 1944 |
| Б | Жуков | 2 | 1941 |
| В | Рокоссовский | 4 | 1943 |
| Г | Конев | 1 | 1944 |
| Д | Малиновский | 5 | 1944 |

Задание №3. Внимательно рассмотрите изображения выдающихся русских композиторов XIX – начала XX вв., ознакомьтесь с приведенным списком фрагментов из написанных ими опер и заполните таблицу.



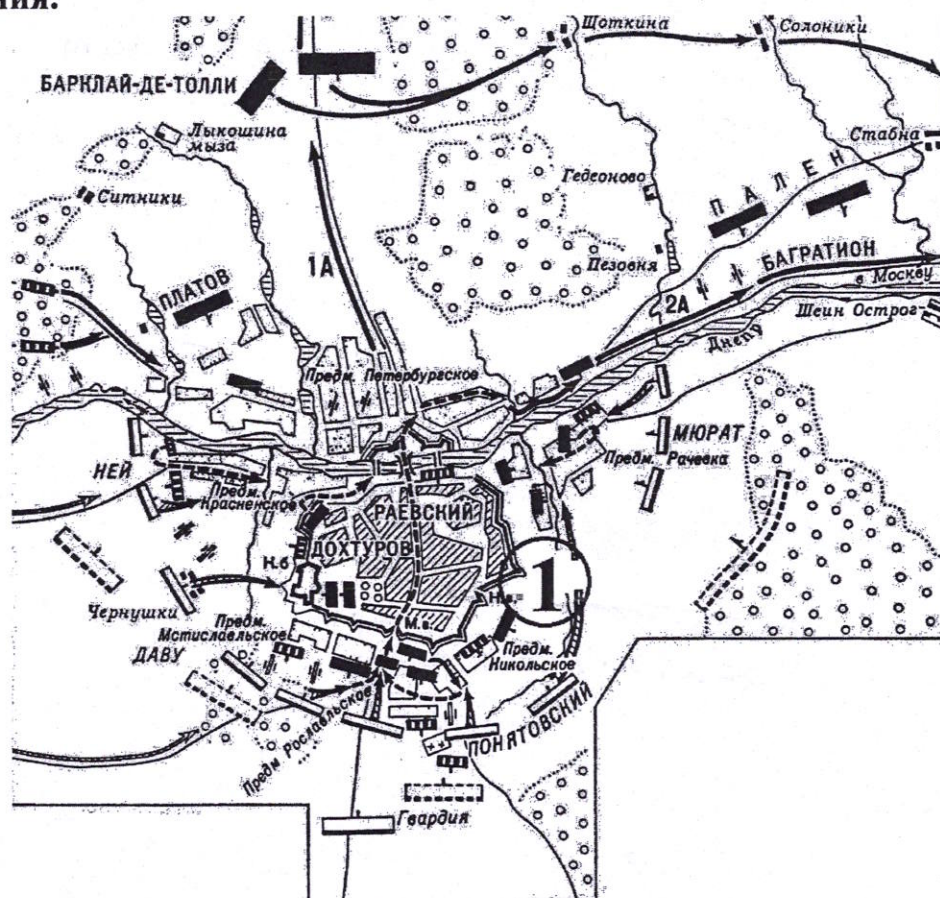


Фрагменты опер:

- 1) Половецкая пляска с хором.
- 2) Монолог Шакловитого «Спит стрелецкое гнездо. Спи, русский люд».
- 3) Хор псковичей «Грозный царь идет во великий Псков».
- 4) Ария Германа «Что наша жизнь? Игра!»
- 5) Хор народа «Славься, славься, наш русский царь!»
- 6) Хор девушек «Ходим мы к Арагве светлой».

| Изображение (буква) | Композитор | Отрывок из оперы (цифра) | Название оперы, из которой взят фрагмент |
|---------------------|----------------------|--------------------------|--|
| А | Глинка | 5 | Жизнь за царя |
| Б | Чайковский | 4 | Псковская земля |
| В | Прокофьев ↗ | 6 ↗ | Князь Игорь ↗ |
| Г | Бородин ↘ | 1 ↘ | Князь Игорь ↘ |
| Д | Бородин ↗ | 3 | Иван Грозный |
| Е | Римский-Корсаков | 2 | Хованщина |

Задание №4. Внимательно рассмотрите карту и выполните приведенные ниже задания.



1. В каком году произошло изображенное на схеме сражение?

Ответ: 1812

2. Назовите город, обозначенный на схеме цифрой 1.

Ответ: Смоленск

3. Укажите российского монарха, при котором произошло сражение на схеме, и годы его(ее) правления.

Ответ: Александр I 1801 - 1825

4. Укажите название войны, в рамках которой происходило сражение на схеме, и ее временные рамки (с точностью до месяцев начала и завершения).

Ответ: Отечественная война, ^{июнь} февраль - декабрь 1812

5. Верны ли представленные ниже утверждения («ДА» – «НЕТ»)? Ответы внесите в таблицу.

А) На схеме указаны фамилии двух российских полководцев, занимавших в разные годы пост военного министра Российской империи.

Б) Участником сражения на схеме был последний король Речи Посполитой.

В) На схеме обозначен населенный пункт, названный в честь организатора обороны города, обозначенного цифрой 1, в XVII в.

Г) В результате событий на схеме город, обозначенный цифрой 1, был оставлен русской армией.

Д) В том же году, в котором происходили события на схеме, было учреждено сословие почетных граждан.

Е) На момент происходивших на схеме событий город, обозначенный цифрой 1, был административным центром губернии.

| А | Б | В | Г | Д | Е |
|----|-----|----|----|-----|-----|
| ДА | НЕТ | ДА | ДА | нет | нет |

Задание №5. Расположите промышленные и транспортные объекты XVIII – XX в. по хронологии их ввода в строй.

- 6
1. Челябинский тракторный завод.
 2. Великий Сибирский путь.
 3. Ирбинский железодельный завод. 1870
 4. Императорский Тульский оружейный завод. 1840
 5. Кондитерская фабрика «Эйнем». 1860
 6. Обнинская атомная электростанция. 1954
 7. Камский автомобильный завод. 1850
 8. Уральский вагоностроительный завод имени Ф. Э. Держинского.

Ответ:

~~24381765~~
43521867

чистовик.

Задачи 1-5 на тему с заданием

6. 1. ГОЭЛРО, ДнепротЭС, Волжонская ГЭС

2. План государственной электрификации был важным пунктом в реализации социально-экономической программы Советского государства. ГОЭЛРО и вправду «осветила» путь дальнейшего развития Советского государства. Принятый в 1920-ых годах, План государственной электрификации повлиял как на жизнь обычных граждан, так и на рабочих. Электричество дало до этого и до заводов, соответственно, улучшить уровень жизни и рабочие условия. Производительность повышалась, появилась возможность модернизации заводов. Планы по развитию СССР в будущем выполнялись быстрее чем без внедрения ГОЭЛРО.

3. Эссе «Разработка программы «ускорение социально-экономического развития» и ее реализация в СССР в 1983-1989 гг.

«Прошедшее, уходя, не умеет убирать своих посредствий» - говорил Ключевский. Удивительно, как легко человек, живший в совсем в другой эпохе, смог так четко охарактеризовать причинно-следственные связи во всей истории, в любом периоде. В своем эссе я также предположил и посредствия разработки и реализации этой программы, а также подведу итоги и выведу значимые исторические события. Эпоха правления Брежнева считалась чередой представителей ~~реван~~ геронтократии. Эпоху Замоя, возвращение культа личности и развитого социализма считала точка «на катафалках» и череда пышных похорон. Погибли

люди находились у власти, сменяли друг друга. с возрастом люди становятся более консервативными в результате чего, новые реформы, что-то менее острое в корне, были редкостью. Если Андропов еще стремился к улучшению жизни, к введению реформ и был готов к изменениям, то Черненко, сменявший его, был слишком слаб чтобы полноценно управлять страной в силу возраста. Рано общественное недовольство, а диссидентское движение набирало все большую популярность среди молодежи. Необходимо было изменить Перспективную программу Михаила Горбачева казалась лучшим вариантом. Программа была направлена на полный переход от развитого социализма к капитализму. Светлое будущее было впереди, все будет лучше чем у всех остальных. Однако, не все шло настолько гладко. Реформы Горбачева были приняты далеко не всеми, а "перестройка", которая стала движущим ускорением социально-экономического развития, вовсе катастрофически повлияла на Советское государство. Одной из трагедий этой программы стал взрыв на Чернобыльской АЭС. Это не просто опустошило страну - это стало настоящим потрясением для всего мира.

Реализация программы привела на 8-9 пятилетки. Она возымела положительный эффект на самом развитом государстве, но сам рынок Союза Советских Социалистических республик это не могло остановить. Корни распада СССР укоренились далеко в прошлое, это была совокупность многих причин и экономических в том же очерке. Но они смогли несколько ухудшить состояние государства.

30

28-07-14-38

(105.21)

Введение содержит название задачи. 2

Обзор не представляет самостоятельную задачу и т.з. сформулированы. 0


Заключение вполне обосновано. 3

Основная часть содержит много ошибок, матривалл, некорректные рассуждения. 2.5

Вн/ Шидерс Р.Д.

Тонангомыс Т.Т. &

ЛИСТ-ВКЛАДЫШ



Подписывать лист-вкладыш запрещается! Писать на полях листа-вкладыша запрещается!